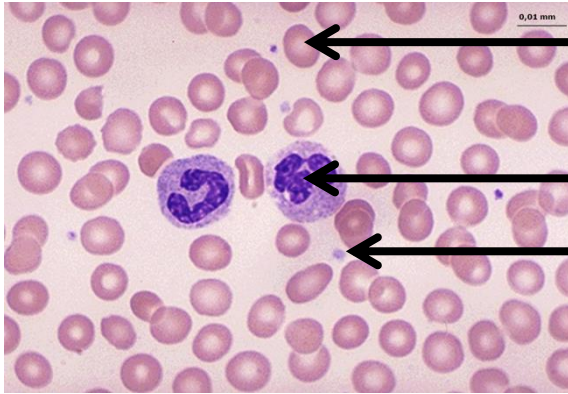


Toets: Transport bij mens en zoogdier

Verwacht cijfer:
/15



1. a) Benoem de bloedlichaampjes op onderstaande afbeelding van een preparaat. /3

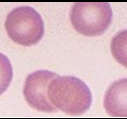
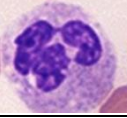



.....

.....

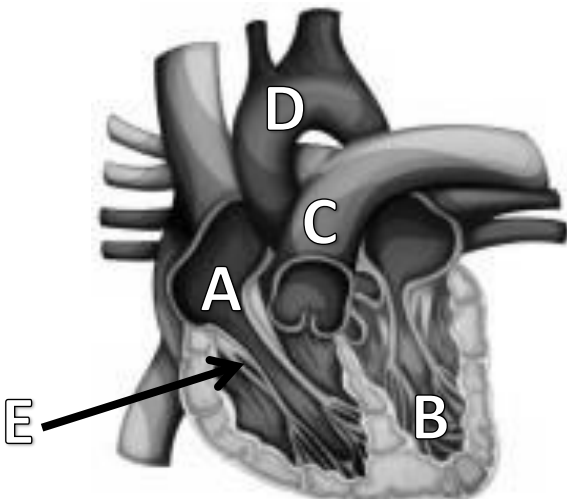
.....

b) Onderlijn de juiste functie van elk bloedlichaampje. /3

Bloedlichaampje	Functie
	<ul style="list-style-type: none"> - Vervoeren zuurstofgas en koolstofdioxide - Bestrijden van ziektekiemen - Helpen bij de bloedstolling
	<ul style="list-style-type: none"> - Vervoert voedingsstoffen - Bestrijden van ziektekiemen - Helpen bij de bloedstolling
	<ul style="list-style-type: none"> - Vervoeren zuurstofgas en koolstofdioxide - Vervoert voedingsstoffen - Helpen bij de bloedstolling

2. a) Benoem de aangeduide delen van het hart. /5

Kies uit: Linker voorkamer, rechter voorkamer, linkerkamer, rechterkamer, longslagader, aorta, klepvlies, slagaderklep



A:

B:

C:

D:

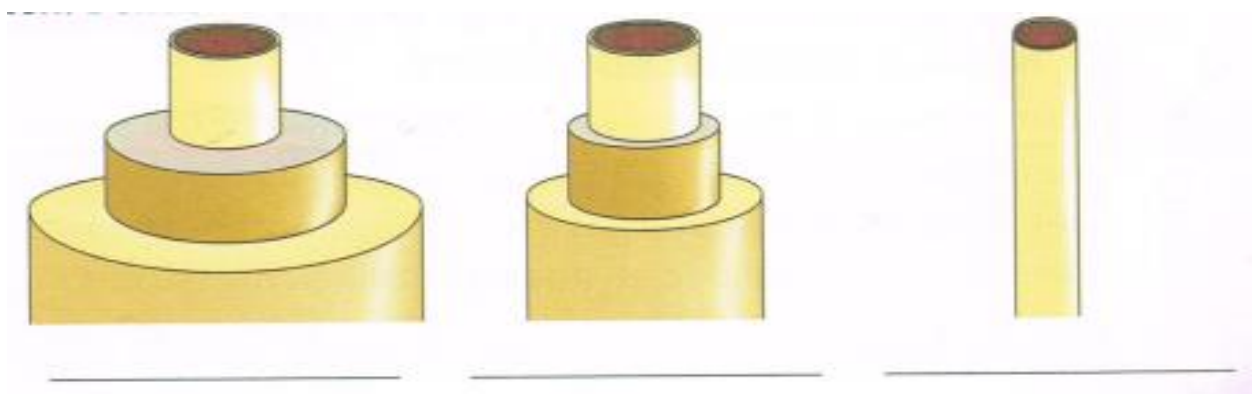
E:

3. Schrap wat niet past. /2,5

- Aders voeren het bloed naar/weg van het hart.
- Slagaders voeren het bloed naar/weg van het hart.
- Haarvaten hebben een doorlatende/ondoorlatende wand.
- Het bloed staat zuurstofgas/koolstofdioxide af aan de longblaasjes.
- Het bloed neemt zuurstofgas/koolstofdioxide op uit de longblaasjes.

4. Welk bloedvat hoort bij welke tekening? /1,5

Kies uit: slagader, ader, haarvaten



VEEL SUCCES !!!